

ARMY PUBLIC SCHOOL GWALIOR
CLASS - IV
ACADEMIC SESSION 2023-24
REVISION WORKSHEET (SELF –ASSESSMENT)



Subject: English

Assignment No. : 9

Allotment Date: 10 February 2024

S.NO.	QUESTIONS	MARKS	NATURE
1	<p>Read the following poem and answer the questions given below:</p> <p>Romi is very happy today. His summer vacation has started. Papa is taking him first to the zoo and then to the amusement park. He has packed his picnic bag with his favourite frisby and teddy. He tells his mother to give him a packet each of chocochip cookies and wafers. Just then papa calls off calls Romi, it's time to go! Romi runs down.</p> <p>A. Tick the correct answer of the following questions.</p> <p>(i) Who is very happy? a) Papa is very happy. b) Mother is very happy. c) Romi is very happy.</p> <p>B. State whether the sentence is True or False:</p> <p>(i) Papa is taking him first to the amusement park and then to the zoo.</p> <p>C. Answer the following questions in one word:</p> <p>(i) What has started?</p> <p>D. Answer the following questions.</p> <p>(i) What items Romi packed in his bags?</p>	4 Marks	Reading and understanding
2	<p>Write a letter to your friend describing about your school trip to the zoo in about 8 sentences.</p>	8 Marks	Information
3	<p>Write the conversation of an interview of your new classmate.</p> <p>Aditi: Hello! _____ you? Meena: _____ fine, Thank you. What about you? Aditi: I am _____. Where are you going? Meena: _____ to market? Where are you going? Aditi: I am going to _____. Meena What you want to buy?</p> <p>Aditi: I want to buy _____. What will you buy? Meena: I want to buy _____.</p>	7 Marks	

	<p>Underline the prepositions in the following sentences.</p> <p>i) Sheena is waiting at the bus stop. ii) The boy was sleeping under a tree. iii) I saw a crowed near our house</p>	3 Marks	Understanding and analytical skill
5	<p>Underline the conjunctions in the following sentences-</p> <p>i) I do not like apples _____ like oranges. ii) Behave properly _____ get out. iii) Richa _____ I are classmate.</p>	3 Marks	Critical Thinking
6	<p>Fill up the blanks with suitable interjections--</p> <p>i) _____! What an amazing feat. ii) _____! We won the match. iii) _____! He is hurt badly.</p>	3 Marks	Evaluation
7	<p>Answer the following questions in one word-</p> <p>i) Who conveyed the invitation to the guests? _____ ii) What was given as a return gift to each guest? _____ iii) The clock was kept in a _____. iv) Who fills the heart with gladness? _____ v) Who gives the beat every hour? _____ vi) Birbal lived in hiding for _____. vii) Whom did barbar meet in his dream? _____ viii) Soni introduced the guests to her _____. ix) Who won a medal for an act of bravery? _____ x) Who gave a medal to Mala? _____</p> <p>Value based question.</p>	10 Marks	Critical thinking
8	<p>(i) What qualities of Birbal do you come to know from the story- 'Birbal & the Barbar'?</p> <p>(ii) Do you think that humans will find aliens in space in future? How should we treat them?</p>	2 Marks	Interdisciplinary understanding



ARMY PUBLIC SCHOOL GWALIOR
CLASS - IV
ACADEMIC SESSION 2023-24
REVISION WORKSHEET (SELF –ASSESSMENT)




Subject: Hindi

Assignment No. : 9

Allotment Date: 10 February 2024


क्र.सं.	प्रश्न	अंक
1.	<p>पंद्रह वर्ष से कम आयु के बच्चे से किसी भी तरह के रोजगार करवाने को बाल मजदूरी कहा जाता है एक बच्चे को आम तौर पर तब माना जाता है जब वह पंद्रह वर्ष या उससे अधिक का हो जाता है। इस आयु सीमा से कम के बच्चों को किसी भी प्रकार के जबरन रोजगार में संलग्न होने की अनुमति नहीं है। बाल श्रम बच्चों को सामान्य परवरिश का अनुभव करने, गुणवत्तापूर्ण शिक्षा प्राप्त करने और उनके शारीरिक और भावनात्मक विकास में बाधा के रूप में देखा जाता है। हालाँकि यह कुछ देशों में प्रतिबंधित है, फिर भी इसे पूरी तरह से समाप्त करने में अब तक सफलता नहीं मिल पाई है। बच्चों का इस तरह से रोजगार करना जो उन्हें बचपन का आनंद लेने, शिक्षा प्राप्त करने या व्यक्तिगत विकास का अनुभव करने के अवसर से वंचित करता है, बाल श्रम के रूप में जाना जाता है। यदि कोई व्यक्ति या संगठन बाल श्रम में लिप्त पाया जाता है, तो उनके विरुद्ध बाल श्रम के लिए बने कड़े कानूनों के अंतर्गत कार्यवाही का प्रावधान है, बाल श्रम के खिलाफ़ भारत जैसे कई देशों में कारावास और जुर्माने के मानक निर्धारित हैं।</p> <p>(क) निम्नलिखित प्रश्नों के उत्तर एक शब्द में दें -</p> <ol style="list-style-type: none">यह गद्यांश किस के बारे में है?आपके अनुसार, बाल मजदूरी उचित है या अनुचित? <p>(ख) रिक्तस्थानों की पूर्ति करें -</p> <ol style="list-style-type: none">बाल श्रम के खिलाफ़ भारत जैसे कई देशों में.....और जुर्माने के मानक निर्धारित हैं।हालाँकि यह कुछ देशों में..... है, फिर भी इसे पूरी तरह से समाप्त करने में अब तक सफलता नहीं मिल पाई है।	4

<p>2</p>	<p>निम्नलिखित पद्यांश को ध्यानपूर्वक पढ़कर दिए गए प्रश्नों के उत्तर दें-</p> <p>चलो चलें एक घाटी में , फूलों की सुन्दर वादी में। चित्रकार का सपना है यह , सपना रंग-बिरंगा है यह। कहीं केसर कहीं गुलाब , तो कहीं मोतिया लाया बहार। फैल रही कहीं हैं सरसों , गुलज़ार खिला है परसों। जूही शरमाती लजाती है , चमेली भी तो इतराती है। चंपा ने है जाल बिछाया, सूर्यमुखी ने थाल सजाया।</p> <p>(i) निम्नलिखित प्रश्नों के सही उत्तर चुनकर (✓) का निशान लगाएँ-</p> <p>(क) _____ ने थाल सजाया है। (i) जूही (ii) चमेली (iii) सूर्यमुखी (ख) _____ फूल अपनी सुंदरता पर इतराती है। (i) मोतिया (ii) चमेली (iii) जूही</p> <p>(ii) सही (✓) या गलत (x) का निशान लगाएँ - (क) सूर्यमुखी ने जाल बिछाया है। _____ (ख) मोतिया बहार लेकर आया है। _____</p>	<p>4</p>
<p>4.</p>	<p>पेड़ और कुल्हाड़ी के बीच आपसी संवाद लिखिए।</p>	<p>2.5</p>
<p>5</p>	<p>नीचे दिए गए चित्र का वर्णन पाँच वाक्यों में करें -</p> 	<p>2.5</p>

6.	<p>सही विकल्प चुनकर लिखें-</p> <p>क) अच्छे आचरण वाला i) सदाचारी ii) भाईचारे iii) सदाचार</p> <p>ख) नेपालीभाषा की लिपि है - i) देवनागरी ii) गुरुमुखी iii) रोमन</p> <p>ग) 'उपस्थित शब्द का विलोम है - i) अनुपस्थित ii) उपस्थिति iii) परिस्थित</p> <p>घ) 'चतुर' शब्द का विलोम है- i) नीचा ii) होशियार iii) मूर्ख</p> <p>ङ) "दो बीमार व्यक्ति का इलाज कर रहा है"- में विशेषण है - i) ब्बीमार ii) बीमार iii) व्यक्ति</p> <p>च) इस घर में कौन रहता है (उचित विराम चिह्न चुनें) i) ? ii)! iii) ""</p> <p>छ) जिन शब्दों से किसी काम के करने या होने का पता चले उन्हें ----- कहते हैं? i) काल। ii) क्रिया। iii) सर्वनाम</p> <p>उचित शब्द लिखकर खाली स्थान भरें-</p> <p>क) राम चतुर और किशन ----- है। ख) दादाजी -----सुना रहे हैं। ग) गर्मी की छुट्टियों में मैंने नींबू पानी बनाना,-----। घ) चलती बस से कूदता -----है।(मुहावरे का प्रयोग) ङ) नाटक का मुख्य ,----- मेरा मित्र है।</p> <p>इन वाक्यों से कर्ता,कर्म और क्रिया छांट कर लिखें-</p> <p>(क) मैं सुंदर बगीचे में सुंदर फूल देखा (ख) मां खाना बना रही है। (ग) क्रिकेट खेल रहा है।</p>	3.5
7		2.5
8		1.5
9	<p>शब्दों का क्रम ठीक करके वाक्य लिखें - (क) प्रतीक्षा में रहा कर रहा था तुम्हारी। (ख) परीक्षा तैयारी छात्र रहे है कर की।</p> <p>निम्नलिखित मुहावरों का अर्थ सहित वाक्य प्रयोग करें (क) अगर मगर करना। (ख) फूला न सामना। (ग) आकाश से बातें करना।</p> <p>वाक्य में सही विराम चिन्ह लगाए -</p>	1
10		1.5

11	(क) अर्पित मुंबई से कब आए (ख) नीता शोभित पीयूष और मीना फुटबॉल मैच देखने जाएंगे	1
12	दिए गए शब्दों का वाक्य प्रयोग करें (क) परिवार ----- (ख) आकाश,----- (ग) फुरतीली-----	1.5
13	निम्नलिखित शब्दों के अर्थ लिखें - क) प्रदूषित ----- ख) दिनचर्या ----- ग) आवश्यक ----- घ) ठान लिया ----- ङ) परिश्रम ----- च) पेचीदा ----- छ) सुगंध ----- झ) संकेत -----	4
14	निम्नलिखित प्रश्नों के उत्तर लिखें - (कोई 5) (i) बच्चों ने कदम के पेड़ पर भही बैठने की बात क्यों की है? (ii) निखिल के पिताजी शहर में क्या काम करते थे? (iii) धान के पौधे कैसे लगाए जाते हैं? (iv) न्यूटन को विज्ञान जगत का पिता क्यों कहा गया है? (v) बचपन में न्यूटन का स्वभाव कैसा था? (vi) पानी को अमृत क्यों कहा गया है?	6
15	कविता की इन पंक्तियों को पूरा करो- अपने एक हाथ में _____ _____, _____ की लाती	1
16	दिए गए शब्दों के वचन बदलो - क) परी ----- ख) डाल -----	1
17.	प्र 17 मूल्यपरक प्रश्न- (कोई एक) क) यदि सपने में परी आकर आपका कैमरा साफ करने लगे तो आप क्या करेंगे?	1

18.	निम्न शब्दों के लिए समानार्थक शब्द लिखें - क) फूल ----- ख) तूफ़ान -----	1
------------	---	----------



ARMY PUBLIC SCHOOL GWALIOR
CLASS - IV
ACADEMIC SESSION 2023-24
REVISION WORKSHEET (SELF –ASSESSMENT)



Subject: Mathematics

Assignment No. : 9

Allotment Date: 10 February 2024

S. NO.	QUESTIONS	MARKS	NATURE										
1	Fill in the blanks: (a) Odd number + 1 = _____ (b) 9, 27, 45, _____ (c) Half a day = _____ (d) Broken piece of a bangle _____	4×1 = 4	Observation										
2	Write whether the following statements are 'True' or 'False': (a) Flat surfaces of solids are called faces. _____ (b) A cylinder has three number of faces. _____ (c) Gram is the standard unit of length. _____ (d) A polygon has two or less sides. _____	4×1 = 4	Mental Ability										
3	Match column A with column B: <table style="width: 100%; border: none;"><tr><td style="text-align: center;">A</td><td style="text-align: center;">B</td></tr><tr><td>(a) A fortnight</td><td>(i) 12 days</td></tr><tr><td>(b) Half a day</td><td>(ii) 120 minutes</td></tr><tr><td>(c) 2 hour</td><td>(iii) 12 hours</td></tr><tr><td>(d) one week + 5 days</td><td>(iv) 14 days</td></tr></table>	A	B	(a) A fortnight	(i) 12 days	(b) Half a day	(ii) 120 minutes	(c) 2 hour	(iii) 12 hours	(d) one week + 5 days	(iv) 14 days	4×1 = 4	Decision Making
A	B												
(a) A fortnight	(i) 12 days												
(b) Half a day	(ii) 120 minutes												
(c) 2 hour	(iii) 12 hours												
(d) one week + 5 days	(iv) 14 days												
4	Multiple Choice Questions: (a) How many days are there in a non-leap year? (i) 365 (ii) 366 (iii) 364 (b) Total number of items x Cost of one item = (i) Quantity (ii) Unit cost (iii) Total cost (c) 28 minutes past three hour thirty minutes is (i) 3:08 (ii) 3:28 (iii) 3:58 (d) To find the perimeter of a square, we multiply its side length by	4×1 = 4	Understanding										

	(i) 1	(ii) 2	(iii) 4		
5	Do as directed: (i) Write am or pm for each activity. (a) Morning walk _____ (b) Sunset _____ (ii) Fill in the blanks: (a) 1 hg = _____ mg (b) 1 dm = _____ mm (iii) What kind of lines are shown by (a) Railway tracks: _____ (b) Ladder leaning against a wall: _____ (iv) Convert 0630 hours into a 12-hour clock time. (v) Convert 9 minutes 25 seconds into seconds. (vi) Fill in the blanks: (i) 4000 km + 3500 m = _____ m (ii) 3655 g = _____ g _____ mg			6×2 =12	Problem-Solving
6	Read the word problems and solve them: (i) Amit saved ₹ 405.50, ₹ 155.70 and ₹ 344.80 in three months. How much did he save in all? (ii) Annie has ₹ 3060. She divides it among six children. How much money does each child get? (iii) A train scheduled to arrive at 8:10 am was late by three- eight of the day. At what time did it reach? (iv) 5 L of cold drink is to be filled in small bottles, each having a capacity of 250 mL. How many bottles would be needed?			4×3 =12	Critical Thinking



ARMY PUBLIC SCHOOL GWALIOR
CLASS - IV
ACADEMIC SESSION 2023-24
REVISION WORKSHEET (SELF –ASSESSMENT)



Subject: EVS

Assignment No. : 9

Allotment Date: 10 February 2024

S. NO.	QUESTIONS	MARKS	NATURE
1	<p>Tick the correct options:</p> <p>i.is a biodegradable waste. a. Animal waste b. vegetable peels c. Waste food d. All of these</p> <p>ii. Which of the following colours are used for showing plains on the map. a. Yellow b. Blue c. Green d. Red</p> <p>iii. Water that is safe for drinking is calledwater a. Polluted b. Potable c. purified d. Plain</p> <p>iv. Bunglow are owned by.....people. a. Poor b. Rich c. Both a and b d. None of these</p> <p>v.flower is used to make perfumes. a. Rose b. Lotus c. Broccoli d. Sunflower</p>	5x1=5	Information
2	<p>Match the following.</p> <p>1. Non-Biodegradable waste - Horse 2. Pack animal - Suspension Bridge 3. Permanent Bridge - Carrot 4. Non-flowering plant - Coke tin</p>	4x1=4	
3.	<p>Fill in the blanks.</p> <p>1.is the major direction. 2. All Water filters have..... 3. Dumping of garbage outside the city in an open ground is known as..... 4. Horses are used to give joy ride in fair and</p>	4x1=4	Understanding
4	<p>Give Example</p> <p>i. Differently-Abled people. ,</p> <p>ii. Water purification method,</p>	2x1=2	
5	<p>True and False</p> <p>1. Tongue helps us to smell things. () 2. Security thread prevents the note from imitation. ()</p>	2x1=2	

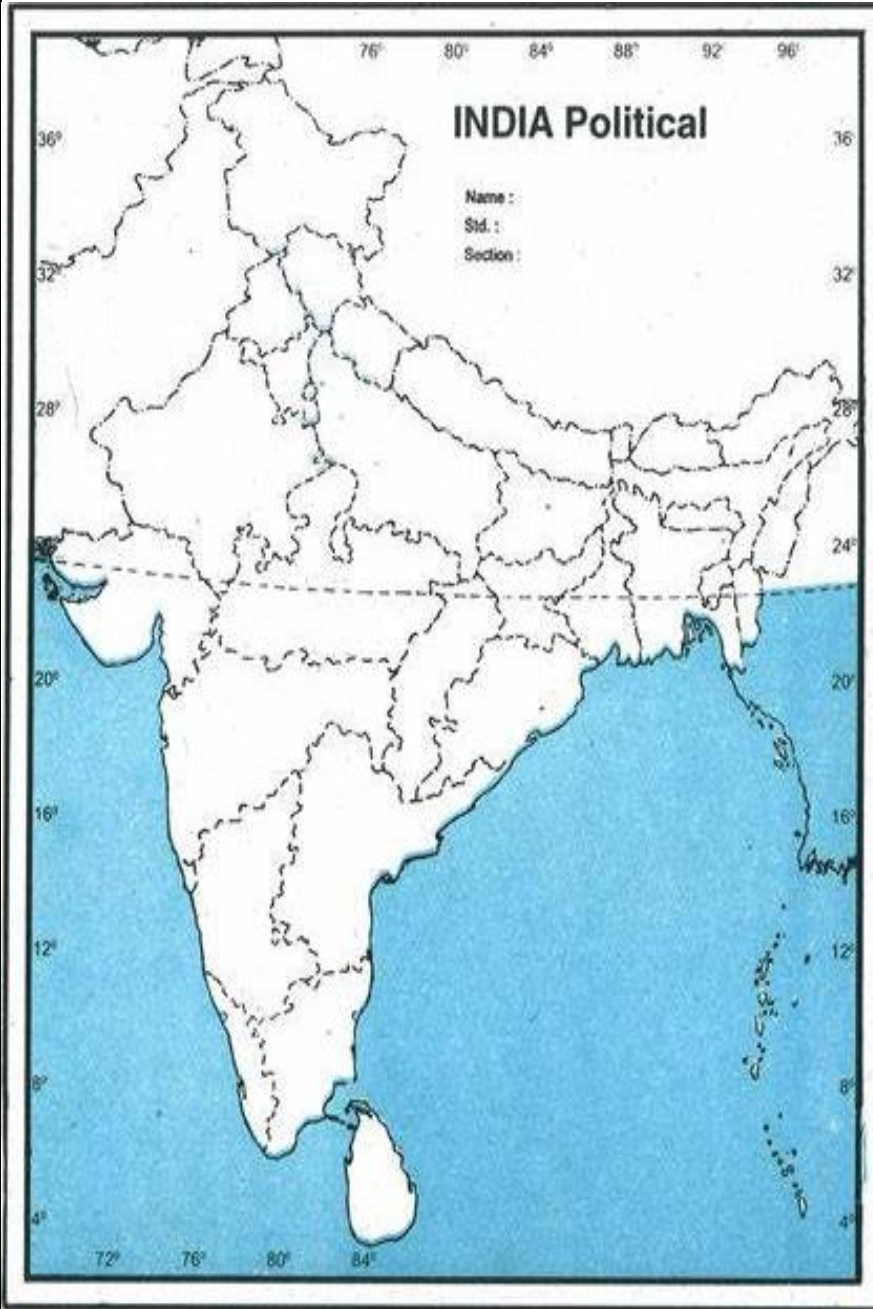
6	One word answer. 1. The one who makes electrical fitting. _____ 2. Water borne disease. _____ 3. Types of bridge. _____	3x1=3	
7	Give Reasons. 1. Hut is a temporary house. _____ 2. We should not breath from our mouth. _____	2x2=4	Analytical Skill
8	Short answer type questions. 1. What are the reason for increase in demand for fresh water. _____ _____ 2. Which step should be taken to control water pollution. _____ _____	2x2=4	
9	Answer the following question in detail: 1. How is our government helping special children? _____ _____ 2. What is the difference between Tonga and Buggy? _____ _____ _____ _____	2x3=6	

10	1. Draw a diagram of Suspension bridge.	1x2=2	
11	1. There is 30% ground water, 20% surface water, 40% ice and 10% water vapours. Draw the pie chart on the given data.	1x2=2	

12

1. Locate the following points on the political map of India.
a. Brahmaputra b. Arabian sea c. Maharashtra
d. Jharkhand

4x0.5=2





ARMY PUBLIC SCHOOL GWALIOR
CLASS - IV
ACADEMIC SESSION 2023-24
REVISION WORKSHEET (SELF –ASSESSMENT)




Subject: G.K

Assignment No. : 9

Allotment Date: 10 February 2024

S.NO	QUESTIONS	MARKS	SKILLS
1.	<p>Answer the following in one-word:</p> <p>(a) _____ He is a retail entrepreneur, investor, chairman and CEO of Amazon.</p> <p>(b) _____ means to convert waste into reusable material.</p> <p>(c) Queen Victoria was the queen of _____.</p> <p>(d) _____ is a man-made disaster?</p> <p>(e) _____ are very small pores present on the surface of a leaf.</p>	5	Informative and General Awareness
2.	<p>Write True or False for the following statements-</p> <p>a) Bara Imambara is located in Lucknow.</p> <p>b) Kalpana Chawala was the first person to step on the moon.</p> <p>c) Anandmath was written by Bankim Chandra Chattopadhyay.</p> <p>d) Alexander the great is the founder of Maurya Empire.</p> <p>e) Jai Vilas Palace is not situated in Gwalior.</p>	5	General awareness



ARMY PUBLIC SCHOOL GWALIOR
CLASS - IV
ACADEMIC SESSION 2023-24
REVISION WORKSHEET (SELF –ASSESSMENT)



Subject: Computer

Assignment No. : 9

Allotment Date: 10 February 2024

S.N	QUESTIONS	MARKS	NATURE
1.	<p>Tick the correct answer.</p> <ol style="list-style-type: none">1. _____ are used in smart homes to detect fire and gas leak incidents.<ol style="list-style-type: none">a. Smart lightingsb. Smoke sensorsc. Smart locks2. _____ is the heart of Artificial Intelligence.<ol style="list-style-type: none">a. Datab. Outputc. Instruction3. _____ is a high-speed Internet connection.<ol style="list-style-type: none">a. Mosaicb. Broadbandc. Modem4. We can change how a sprite looks by giving it a different _____.<ol style="list-style-type: none">a. Propb. Costumec. Sprite	1/2X4=2	Interdisciplinary
2.	<p>Fill in the blanks.</p> <ol style="list-style-type: none">1. Scratch provides _____ different options for adding sprite to our applications.2. A smart camera gives us easy ways to access the recorded _____.3. LUIS is an AI application developed by _____4. In 1969, the Department of Defense of the USA developed _____.	1/2X4=2	Analytical Skill

3.	Answer the following. <ol style="list-style-type: none">1. What are the main goals of Artificial Intelligence?2. Name any three smart home products.3. How does the LUIS app work?4. What are the advantages of Internet?5. What do you mean by the Forever block?6. Write three responsibilities of a digital citizen.	1 X6=6	Analytical Skill
-----------	---	--------	------------------