



ARMY PUBLIC SCHOOL GWALIOR
CLASS - III
ACADEMIC SESSION 2023-24
REVISION WORKSHEET (SELF –ASSESSMENT)



Subject: English

Assignment No. : 6

Allotment Date: 20 November 2023

S. NO.	QUESTIONS	MARKS
1	<p>A. Read the following unseen passage carefully and then answer the questions that follow after the passage:</p> <p>Dogs are one of the most popular pets in the world. They are known to be loyal and protective of their owners. Dogs come in different shapes, sizes and breeds. Some breeds, such as poodles and golden retrievers, are known to be smart and easy to train. Other breeds, such as bulldogs and pugs, are known for being cute and playful.</p> <p>Dogs are also used for various purposes. Some dogs help blind or disabled people. These dogs are called service dogs. Other dogs help catch criminals or find missing persons. These dogs are called police dogs or search and rescue dogs. Dogs are also used to herd sheep and cattle on farms.</p> <p>(1.) Choose the correct answer from the given options and rewrite them:</p> <p>(a) Which type of pets do you think dogs are? i. most different ii. most popular iii. most useful</p> <p>(b) Some dogs help _____ and disabled people. i. dumb ii. deaf iii. blind</p> <p>(2.) Write OPPOSITE of the following words: (a) loyal (b) smart</p> <p>(3.) Answer in one word: (a) Breed is known to be cute and playful _____. (b) Breed is known to be smart and easy to train _____.</p> <p>(4.) Answer the following questions in short (in one or two sentences): (a) What are dogs known for? (b) What are service dogs?</p>	8X1=8
2	<p>B1 Write an Invitation to your friend inviting him to the marriage anniversary of your parents. (HINT: Make a box, write day, date, time, your contact number and venue of the party.)</p>	8X1=8

<p>3</p>	<p>C1. Do as directed:</p> <p>(1.) Choose the correct option: Adjectives are also known as _____. (a)naming words (b)describing words (c)action words</p> <p>(2.) Fill in the blanks using given instructions: (a) Burgers are _____ than pasta. (use comparative degree of tasty.) (b) I want to drink _____ milk. (use positive degree of hot.) (c) Isha paints _____ paintings than before.(use superlative degree of beautiful.) (d) That was _____ exciting match. (use article a/an.) (e) _____ Himalayas are _____ world’s greatest mountains. (use article.)</p> <p>(3.) Answer the given question in one word: 'An' articles are placed before the words that have sound of a _____.</p> <p>4.) Correct the verbs given in following sentences and rewrite them in your answer-sheet. (a) Avantika has thick hairs. (b) She is a singer. (c) Does he know about tomorrow's event? (d) There are different types of sweets. (e) Ganesh was eating laddoos.</p>	<p>12X1=12</p>
<p>4</p>	<p>D1. Do as directed:</p> <p>(1.) Tick the correct answer: (a) The _____ has called all the animals for meeting. i. zebra ii. lion iii. bear (b)Dr. APJ Abdul Kalam was elected the President of India in i. 2000 ii. 2002 iii. 2005 (c)Trees hold _____ in their boughs. i. wind ii. leaves iii. fruits (d) The boy hit the bird with i. stoned ii. spears iii. sticks</p> <p>(2.) State whether the given sentences are True/False and rewrite them:</p>	<p>12X1=12</p>

(a) The poet wanted to be friends with the older trees who would tell her stories. (True/False)

(b) Deepak wanted to become teacher. (True/False)

(3.) Answer in **one word:**

(a) Trees offer home to _____.

(b) Who found the keys. _____.

(c) The full form of SLV is called _____.

(4.) Answer the following questions in detail:

(a) Who makes pasta for everyone?

(b) Whom would poet like as her friends?

(c) Name any two books written by Dr. APJ Abdul Kalam.



ARMY PUBLIC SCHOOL GWALIOR
CLASS - III
ACADEMIC SESSION 2023-24
REVISION WORKSHEET (SELF –ASSESSMENT)



Subject: Hindi

Assignment No. : 6

Allotment Date: 20 November 2023

सं ख्या	प्रश्न	अंक
प्र 1.	<p>निम्नलिखित पद्यांश को ध्यानपूर्वक पढ़कर दिए गए प्रश्नों के उत्तर दें-</p> <p>कहती है सारी दुनिया जिसे किस्मत नाम है उसका हकीकत में मेहनत जो रचते हैं खुद अपनी किस्मत, वे कहे जाते हैं साहसी जो करते हैं ईश्वर से शिकायत , वे कहे जाते हैं आलसी जो रुक गया मिट गया उसका नामो- निशाँ जो चलता रहा, अपनी मंजिल वो पा गया खुशी के हकदार है वही जिन्होंने दुख को चुना छोड़ के दमन फूलों का, काँटों की राह को चुना , निराशा का अन्धकार मिटाकर, आशा के दीप जलाओ छोड़ भाग्य की दुहाई , अपनी किस्मत स्वयं बनाओ।</p> <p>(i) निम्नलिखित प्रश्नों के सही उत्तर चुनकर (✓) का निशान लगाएँ-</p> <p>(क) _____ की राह को चुना । (i) खुशी (ii) निराशा (iii) काँटों</p> <p>(ख) हकीकत में उसका नाम _____ है। (i) मेहनत (ii) मंजिल (iii) किस्मत</p> <p>(ii) सही (✓) या गलत (x) का निशान लगाएँ -</p> <p>(क) खुशी के हकदार सुख चुनने वाले होते हैं। _____</p> <p>(ख) आलसी व्यक्ति ईश्वर से शिकायत करते हैं। _____</p> <p>(iii) निम्नलिखित प्रश्नों के उत्तर एक शब्द में उत्तर दें -</p> <p>(क) जो अपनी किस्मत रचते हैं , उन्हें क्या कहते हैं ? _____ _____</p>	5x1=5

(ख) पंक्तियाँ पूरी करें।

जो रुक गया मिट गया उसका _____

जो _____, अपनी मंजिल वो पा गया

(iv) निम्नलिखित प्रश्नों के उत्तर एक वाक्य में उत्तर दें-

(क) सामान तुक वाले शब्द लिखें।

(i) साहसी _____

(ii) किस्मत _____

(ख) सच्चा खुशी का हकदार कौन है?

प्र 2.

दिए गए चित्र को देखकर पाँच (5) वाक्य लिखें I



<p>प्र 3</p> <p>प्र 4</p> <p>प्र 5</p>	<p>वार्षिकोत्सव में भाग लेने हेतु प्रधानाचार्य को पत्र लिखें।</p> <p>सेवा में प्रधानाचार्य जी</p> <p>_____</p> <p>ग्वालियर दिनांक - _____</p> <p>विषय - वार्षिकोत्सव में भाग लेने हेतु। महोदय, _____ निवेदन है कि मैं आपके विद्यालय में कक्षा _____ की छात्र हूँ मैं इस _____ होने वाले वार्षिकोत्सव में _____ लेना चाहता हूँ। मैं अनेक _____ में निपुण हूँ। मैं वार्षिकोत्सव में अपनी _____ में अवश्य ही आपको प्रसन्न करूँगा। _____ मुझे _____ में भाग लेने की अनुमति _____ करें। मैं आपका अति _____ रहूँगा।</p> <p>धन्यवाद</p> <p>आपका आज्ञाकारी शिष्य</p> <p>_____ _____</p> <p>वाक्यांश के लिए एक शब्द लिखें - (कोई दो)</p> <p>(क) जिसमें बहुत खतरा हो। _____</p> <p>(ख) जो अपने देश का न हो। _____</p>	<p>5x1=5</p>

(ग) जहाँ देश -विदेश के पशु-पक्षी रखे जाएँ । _____

निम्नलिखित शब्दों के अनेकार्थी शब्द लिखें - (कोई चार)

(क) जग _____, _____

(ख) व्यंजन _____, _____

(ग) हार _____, _____

(घ) पद _____, _____

(ङ) भाग _____, _____

नीचे दिए गए रिक्त स्थान पर उचित विराम - चिन्ह का प्रयोग कीजिए- (कोई चार)

(क) कल मुझे विद्यालय जाना है ____

(ख) बाजार में बहुत भीड़ है__

(ग) आप कब नानी के घर जाओगे ____

(घ) उफ़ ____ कितनी गरमी है ____

(ङ) आपका घर कहाँ है____

. निम्नलिखित शब्दों के वर्णों को अलग -अलग (वर्ण विच्छेद) करके लिखिए- (कोई दो)

(क) खतरनाक - _____

(ख) तितली - _____

(ग) बन्दूक - _____

निम्नलिखित शब्दों के अर्थ लिखिए- (कोई दो)

(क) निश्चय _____

(ख) निवासी _____

(ग) सुझाव _____

निम्नलिखित प्रश्नों के सही उत्तर चुनकर (✓) का निशान लगाएँ- (कोई दो)

(क) सौ में कितने शून्य होते हैं?


	<p>(i) एक (ii) दो (iii) दस</p> <p>(ख) कीवी खुद को बचाने के लिए कहाँ जाकर छिपती है?</p> <p>(i) पेड़ों पर (ii) अपने घोंसले पर (iii) लम्बी-लम्बी झाड़ियों में</p> <p>(ग) माली के बेटे ने अपने पिता से क्या लाने को कहा था?</p> <p>(i) समोसे - कचौड़ी (ii) टॉफियाँ-चॉकलेट (iii) खिलौने</p> <p>किसने, किससे कहा लिखिए।(कोई दो)</p> <p>(क) "देखो, इस कीवी की नाक चोंच के कितने पास लगी हुई है।"</p> <hr/> <p>(ख) "हे ईश्वर! तू सबके मन की इच्छा जाननेवाला है।"</p> <hr/> <p>(ग) "जैसे मोर हमारा राष्ट्रीय पक्षी है।"</p> <hr/>	
<p>प्र 11.</p> <p>प्र 12.</p>	<p>निम्नलिखित कविता की पंक्तियाँ पूरी कीजिए -</p> <p>कुछ भी नहीं _____ जिनको</p> <p>साथ बिठा उनको _____,</p> <p>तो दस गुनी _____ अपने में</p> <p>_____ बढी हुई पाओगे।</p> <p>. निम्नलिखित प्रश्नों के उत्तर लिखें - (कोई चार)</p> <p>(क) माली अपने बेटे की इच्छा क्यों पूरी नहीं कर सकता था?</p> <hr/> <hr/> <hr/> <hr/> <hr/>	<p>5x1=5</p>

(ख) कीवी की शारीरिक बनावट कैसी होती है? तीन- चार वाक्यों में लिखो।

(ग) कीवी की तसवीर देखकर मोहित ने पापा से क्या पूछा?

(घ) कोट की जेबें भरी देखकर माली को कैसा लगा?

(ङ) कवि किन्हें साथ बैठाने के लिए कह रहा है?



ARMY PUBLIC SCHOOL GWALIOR
CLASS - III
ACADEMIC SESSION 2023-24
REVISION WORKSHEET (SELF –ASSESSMENT)



Subject: Mathematics

Assignment No. : 6

Allotment Date: 20 November 2023

S. NO.	QUESTIONS	MARKS										
1	Fill in the blanks: (I) $3/9$ _____ $7/9$ (insert <, >, =) (II) $6\text{ m } 30\text{ cm} \times 5 =$ _____ (III) $280\text{ mL} + 300\text{ mL} + 800\text{ mL} =$ L + mL (IV) _____ have no sides and no corners.	4*1=4										
2	Write whether the following statement is 'True' or 'False' : I) The sides of a square may or may not be equal. _____	4*1=4										
	(ii) A hand span, a foot span and a pace are an example of non-standard units of length. _____											
	(iii) Fractions that have same denominators are called Unlike fractions. _____											
	(iv) $1\text{ kg} = 5 \times 100\text{ g}$ _____											
3	Match the column A with column B: <table style="width: 100%;"><tr><td style="text-align: center;">A</td><td style="text-align: center;">B</td></tr><tr><td>(i) Tangram</td><td>(a) standard unit of weight</td></tr><tr><td>(II) Kilograms</td><td>(b) 9 km</td></tr><tr><td>(iii) 9000 m</td><td>(c) two – sixths</td></tr><tr><td>(iv) $2/6$</td><td>(d) a chinese puzzle</td></tr></table>	A	B	(i) Tangram	(a) standard unit of weight	(II) Kilograms	(b) 9 km	(iii) 9000 m	(c) two – sixths	(iv) $2/6$	(d) a chinese puzzle	4*1=4
A	B											
(i) Tangram	(a) standard unit of weight											
(II) Kilograms	(b) 9 km											
(iii) 9000 m	(c) two – sixths											
(iv) $2/6$	(d) a chinese puzzle											

[B] Multiply the following :

(i) 15 km 308 m by 4

(ii) 2 L 23 mL by 3

[C] Draw any two plane figures or 2 – D shapes.

(i)

(ii)

[D] Convert the following:

(a) 9540 metres into kilometres

(b) 14 kg into grams

OR

Write the following fractions in numbers.

(a) Eight – tenths

(b) Three - sevenths

[E] Subtract the following:

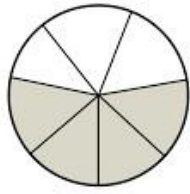
(i) 25 kg 489 g – 17 kg 607 g

(ii) 75 L 250 mL from 84 L 850 mL

[F] Find how many are there in:

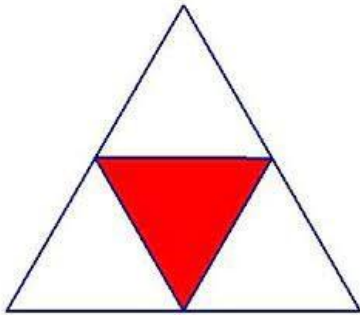
(a) $\frac{1}{5}$ of 35

(b) $\frac{2}{5}$ of 20



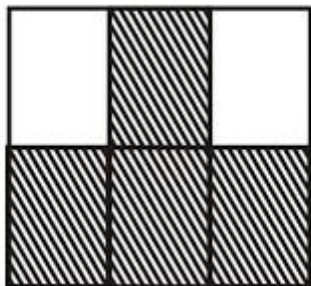
(a)

.....



(b)

.....



(c)

.....

(iii) Draw any three solid shapes or 3-D shapes.


(a)

4x1=4

(b)

(c)

(iv) Out of 40 birds flying in the sky, $\frac{3}{4}$ are moving in a flock and the rest in other flock. How many birds are there in each flock?



ARMY PUBLIC SCHOOL GWALIOR
CLASS - III
ACADEMIC SESSION 2023-24
REVISION WORKSHEET (SELF –ASSESSMENT)







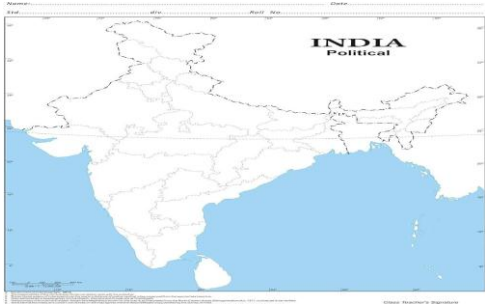
Subject: EVS

Assignment No. : 6

Allotment Date: 20 November 2023

S. NO.	QUESTIONS	MARKS														
Q1.	<p><u>Choose the correct option:</u></p> <p>(a) land on a helipad. (i) Aeroplane (ii) Helicopter (iii) Glider</p> <p>(b) can stay without water for many days. (i) Camel (ii) Lion (iii) Cat</p> <p>(c) trains are the latest means of transport. (i) Metro (ii) Aeroplane (iii) Ships</p> <p>(d) are floating houses. (i) Houseboats (ii) Tents (iii) Igloos</p>	(4x.5=2)														
Q2.	<p>Match the Column A with column B :</p> <table style="width: 100%; border: none;"><tr><td style="text-align: center;">A</td><td style="text-align: center;">B</td></tr><tr><td>(a) aquatic plants</td><td>(i) car</td></tr><tr><td>(b) land transport</td><td>(ii) wax coated leaves</td></tr><tr><td>(c) atlas</td><td>(iii) sources of water</td></tr><tr><td>(d) lakes, ponds</td><td>(iv) a book of maps</td></tr><tr><td>(e) sharks, sea horse</td><td>(v) NEWS</td></tr><tr><td>(f) north, east, west, south</td><td>(vi) aquatic animals</td></tr></table>	A	B	(a) aquatic plants	(i) car	(b) land transport	(ii) wax coated leaves	(c) atlas	(iii) sources of water	(d) lakes, ponds	(iv) a book of maps	(e) sharks, sea horse	(v) NEWS	(f) north, east, west, south	(vi) aquatic animals	(6x.5=3)
A	B															
(a) aquatic plants	(i) car															
(b) land transport	(ii) wax coated leaves															
(c) atlas	(iii) sources of water															
(d) lakes, ponds	(iv) a book of maps															
(e) sharks, sea horse	(v) NEWS															
(f) north, east, west, south	(vi) aquatic animals															
Q3.	<p>Fill in the blanks:</p> <p>(i) _____ percent of earth is covered with water.</p> <p>(ii) _____ kills the germs in water.</p> <p>(iii) _____ is a source of water.</p>	(4x.5=2)														

<p>Q4.</p> <p>Q5.</p>	<p>(iv) Station master is the head of the _____ .</p> <p>State whether the given statements are True/False:</p> <p>(i) Ocean is the natural source of a water.</p> <p>(ii) Clean water becomes dirty if not stored properly.</p> <p>(iii) Land transport is the most common way of travelling in India.</p> <p>(iv) Old people need heavy food.</p> <p>(v) Water is the most important substance on Earth</p> <p>(vi) We must keep our houses neat and clean.</p> <p>Answer the following in one word only :</p> <p>(i) Name an animal which can stay without water for many days</p> <p>(ii) Name the vehicle that carries policemen.</p> <p>(iii) Name a city with harbour.</p> <p>(iv) The electricity made with the help of water.</p>	<p>(6x.5=3)</p> <p>(4x.5=2)</p>
<p>Q6.</p> <p>Q7.</p>	<p>Circle the odd one out</p> <p>(i) Lake, River, Sewage, Ocean</p> <p>(ii) Train, Helicopter, Aeroplane, Glider</p> <p>Identify the following images:</p> <p>(i) </p> <p>(ii) </p> <p>(iii) </p> <p>(iv) </p>	<p>(1X1=1)</p> <p>(4X.5=2)</p>

<p>Q8.</p>	<p>Draw the diagrams of kutcha house and pucca house.</p>	<p>(1x1=1)</p>
<p>Q9.</p>	<p>Locate the following things on the given political map of India:</p> <ul style="list-style-type: none"> (i) Uttar Pradesh (ii) Madhya Pradesh (iii) Himachal Pradesh (iv) South Direction (v) North Direction (vi) South Direction  <p>Give one example of each :</p> <ul style="list-style-type: none"> (i) Special means of transport (ii) Domestic use of water 	<p>(6X.5=3)</p>
<p>Q10</p>	<p>Answer the following questions in short:</p> <p>(a) Why should we keep the dustbin covered?</p> <hr/>	<p>(2x.5=1)</p>
<p>Q11.</p>	<p>(b) Why sea water is not good for plants?</p> <hr/> <hr/> <p>(c) Name any two international airports of India.</p>	<p>(5x2=10)</p>

Q12.	<hr/> <hr/> <p>(d) (d) Why do we need a house?</p> <hr/> <hr/> <p>(e) List any two uses of water.</p> <hr/> <hr/> <p>Answer the following question in brief:</p> <p>(i) What is the difference between a plan and sketch?</p> <hr/> <hr/> <hr/>	(5x2=10)
	<p>(ii) Differentiate between a kutcha house and pucca house.</p> <hr/> <hr/> <hr/> <hr/> <hr/> <hr/> <hr/> <hr/> <hr/> <hr/>	
	<p>(iii) Why there is a need to save water?</p> <hr/> <hr/> <hr/> <p>(iv) Why do people travel?</p> <hr/> <hr/>	

	<hr/> <hr/> <hr/> <p>(v) List any two features of an ideal house.</p> <hr/> <hr/> <hr/>	
--	---	--